


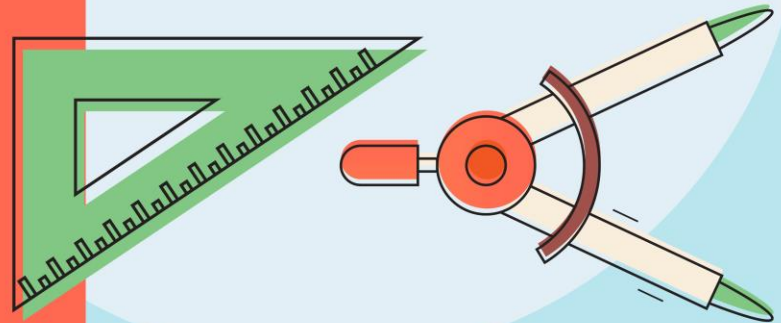
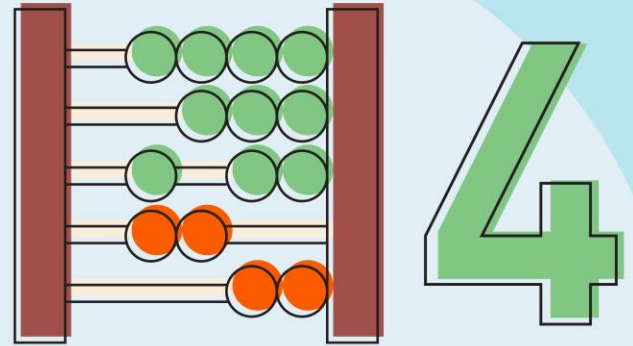
รายวิชา คณิตศาสตร์

รหัสวิชา ค14101

ชั้นประถมศึกษาปีที่ 4



เรื่อง การหารจำนวนนับที่ตัวตั้ง
มากกว่า 4 หลักและตัวหาร 1 หลัก
(เป็นการหารลงตัว โดยใช้หารสั้น)



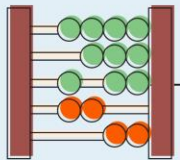


การหารจำนวนนับที่ตัวตั้งมากกว่า
4 หลักและตัวหาร 1 หลัก
(เป็นการหารลงตัว โดยใช้หารสั้น)

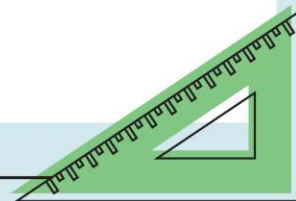


จุดประสงค์การเรียนรู้

1. หาผลหารจำนวนนับที่ตัวตั้งมากกว่า 4 หลัก และตัวหาร 1 หลัก โดยการหารสั้น
2. ให้เหตุผล สื่อสาร สื่อความหมาย ทางคณิตศาสตร์ได้



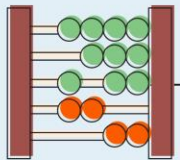
	1	2	3	4	5	6	7	8	9
1	1	2	3	4	5	6	7	8	9
2	2	4	6	8	10	12	14	16	18
3	3	6	9	12	15	18	21	24	27
4	4	8	12	16	20	24	28	32	36
5	5	10	15	20	25	30	35	40	45
6	6	12	18	24	30	36	42	48	54
7	7	14	21	28	35	42	49	56	63
8	8	16	24	32	40	48	56	64	72
9	9	18	27	36	45	54	63	72	81





ตรวจคำตอบของการหาร

(ผลหาร×ตัวหาร)+เศษ = ตัวตั้ง



ตัวอย่าง $115 \div 5 = \square$

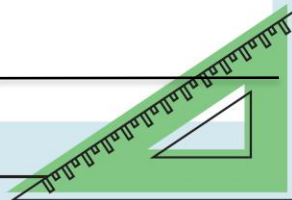
วิธีทำ $5 \overline{)115}$

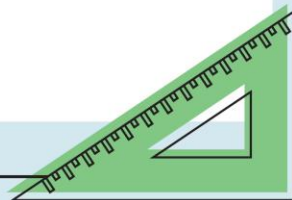
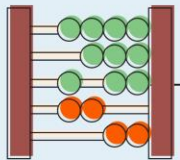
23

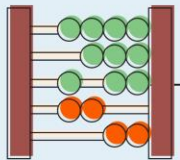
$115 \div 5 = 23$

ตอบ ๒๓

ตรวจคำตอบ $23 \times 5 = 115$







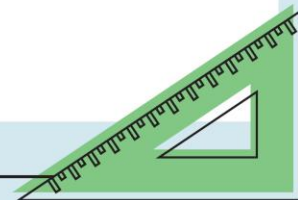

$$1) 6,810 \div 6 = \square$$

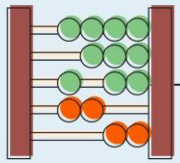
วิธีทำ $6 \overline{) 6810}$
 $\underline{1,135}$

$$6,810 \div 6 = 1,135$$

ตอบ $๑,๑๓๕$

ตรวจคำตอบ $1,135 \overset{23}{\times} 6 = 6,810$





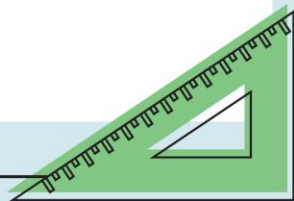
$$2) 56,161 \div 7 = \square$$

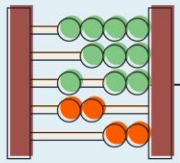
วิธีทำ $7 \overline{) 56161}$
 8,023

$$56,161 \div 7 = 8,023$$

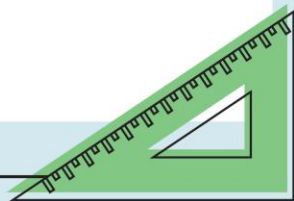
ตอบ ๘,๐๒๓

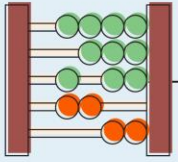
ตรวจคำตอบ $8,023 \overset{1}{\times} 7 \overset{2}{=} 56,161$



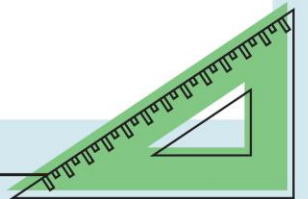


$$3) 73,115 \div 5 = \square$$





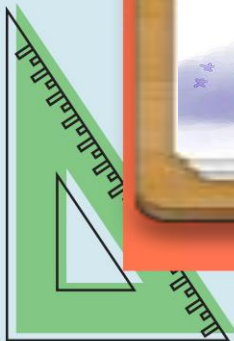
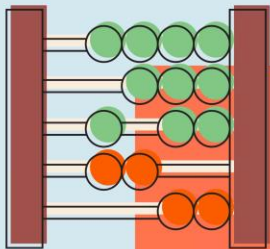
$$4) 20,060 \div 4 = \square$$

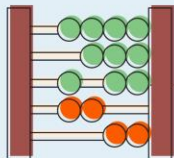


การบ้าน



แบบฝึกหัด 1.32





หน่วยที่

๑

จำนวนนับและการบวก การลบ การคูณ การหาร

☆☆

ผ.๑.๓๒/ผ.๓๒

แบบฝึกหัด 1.32

แสดงการหารสั้น และตรวจคำตอบ

ตัวอย่างที่ 1 $1,404 \div 6 = \square$

วิธีทำ $6 \overline{) 1404}$

234

$1,404 \div 6 = 234$

ตอบ ๒๓๔

ตรวจคำตอบ $234 \times 6 = 1,404$

1. $6,810 \div 6 = \square$

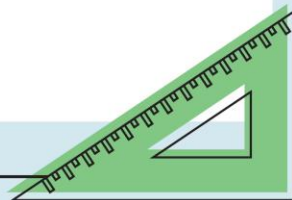
วิธีทำ

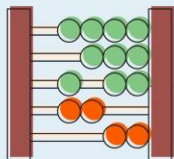
ตอบ

2. $4,312 \div 8 = \square$

วิธีทำ

ตอบ





หน่วยที่
๑

จำนวนนับและการบวก การลบ การคูณ การหาร



ผ.๑.๓๒/ผ.๓๒

96

3. $5,260 \div 5 = \square$

วิธีทำ

ตอบ

4. $17,124 \div 4 = \square$

วิธีทำ

ตอบ

5. $68,358 \div 3 = \square$

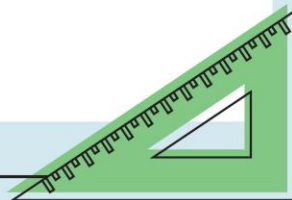
วิธีทำ

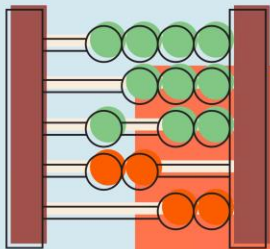
ตอบ

6. $353,570 \div 7 = \square$

วิธีทำ

ตอบ





$$3) 5,260 \div 5 = \square$$

$$4) 17,124 \div 4 = \square$$

$$5) 68,358 \div 3 = \square$$

